

TAREAS PF
PRIMARIA Sede Chapultepec
Titular: Ana María Bernal. Miss Olivia Salazar.

Monday October 20, 2014 – Lunes 20 de Octubre del 2014			
Materia	Descripción	Referencias	
ESPAÑOL	Realizar una calaverita literaria y entregarla hasta el día jueves. Escribe en orden el alfabeto, contestar anexo 1 y pegarlo en libreta azul	Hoja blanca Anexo 1 libreta azul	10 min
MATEMÁTICAS	Contestar la Pág. 14 del libro de Q'bits	Libro de Q- bits	10 min.
INGLES	Complete the drawings and write the name of the pictures.	Annex 2	15 min.

Tuesday October 21, 2014 – Martes 21 de Octubre del 2014			
Materia	Descripción	Referencias	
ESPAÑOL	Busca el número y escribe la letra, contestar anexo 3 y pegarlo en libreta azul	Anexo 3 libreta azul	10 min.
MATEMÁTICAS	Resolver el problema de la copia "Los barcos"	Copia entregada por titular libreta amarilla	10 min.
INGLES	Write four sentences using the vocabulary words. (boat, ball, bear, doll) and draw. Ex. <i>I see two cars.</i>	Red notebook	15 min.

Wednesday October 22, 2014 – Miércoles 22 de Octubre del 2014			
Materia	Descripción	Referencias	
ESPAÑOL	Completa las siguientes palabras con las sílabas as, es, is, os o us y escribirlas en la libreta	Anexo 4 libreta azul	15 min.
MATEMÁTICAS	Contestar la Pág. 32 del libro de Matemáticas	Libro de matemáticas.	10 min.
INGLÉS	Draw your own birthday cake with candles according to your age. Write: <i>I am _____ years old.</i>	Red notebook	10 min.

Thursday October 23, 2014 – Jueves 23 de Octubre del 2014			
Materia	Descripción	Referencias	
ESPAÑOL	Realiza la parte punteada de las palabras con color rojo y pégalas en la libreta; que te las dicte tu mamá y las escribas en otra hoja.	Anexo 5 libreta azul	20 min.
MATEMÁTICAS	Contestar la Pág. 33 del libro de Matemáticas	Libro de matemáticas.	15 min.
INGLÉS	On your red notebook draw your favorite birthday party. (You can paste a photo and decorate it).	Red notebook.	10 min.

Friday October 24, 2014 – Viernes 24 de Octubre del 2014			
Materia	Descripción	Referencias	
ESPAÑOL	Imprime y contesta modulo	Anexo 6	20 min.
MATEMATICAS	Imprime y contesta modulo	Anexo. 7	15 min.
INGLÉS	Imprime y contesta modulo	Annex8	25 min.

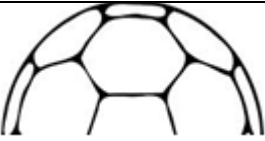





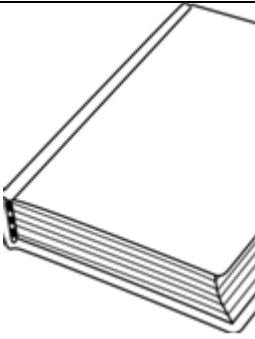




Anexo 1

Realizar una calaverita literaria y entregarla hasta el día jueves.

Escribe en orden el alfabeto.

a				e				i	
				ñ	o				
	u								

ANNEX 2










ANEXO 3

Busca el número y escribe la letra.

A	O	Z	D	E	R	G	T	Y	L	M	H	Ñ	B	P	F	S	I	W	V	CH	N	K	Q
1	14	28	4	5	16	7	18	26	10	11	22	13	2	15	6	17	8	25	20	21	12	23	24
F	E	R	N	A	N	D	O																
6	5	16	12	1	12	4	14	11	1	16	8	1	15	1	19	10	1	19	9	27	3		
18	5	16	5	17	1	15	1	2	10	14	17	8	11	14	12								

ANEXO 4

Completa las siguientes palabras con las sílabas as, es, is, os o us y escríbelas en tu libreta.

___censor 	___pirado 	___piga 
___cudo 	___pada 	___pa 
___tuche 	___la 	___tra 

ANEXO 5

Realiza la parte punteada de la palabras con color rojo y pégala en la libreta; que te las dicte tu mamá y las escribes en otra hoja.

almeja	aldea	alfiler
algodón	albañil	albaricoque
alcachofa	almohada	alfombra
olmo	baúl	Raúl

ANEXO 6 - MODULO

Alumna: _____ Grado: _____

Maestra: _____ Fecha: _____



enchufe

Lee y escribe las palabras.

an ce
11



antena



an da
an da



antar




an te na
an te na



invierno

an te o
an te o



Lee, une cada dibujo con su palabra y repásala.



olmo
lomo



lado
aldea



alta
lata

Daniel es el último.

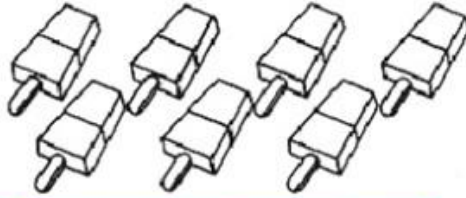
D e e l



ANEXO 7- MODULO

Alumna: _____ Grado: _____

Maestra: _____ Fecha: _____

1. Escribe cuanto hay. Hazlo con número y con letra.





2. Escribe el antecesor y el sucesor.

Antecesor		Sucesor
_____	6	_____
_____	3	_____
_____	9	_____
_____	7	_____
_____	4	_____

3. Resuelve las siguientes operaciones.

$$1 + 1 = \square$$

$$2 + 2 = \square$$

$$2 + 3 = \square$$

MÓDULO DE INGLÉS
ANNEX 8

Name: _____

Date: _____

1. Complete the words.

b _ ll _ _ n	_ o a t	b _ a r	b a _ l
c _ _ e	c _ n _ l e	c _ r	d _ _ l

2. Complete the crossword. Look at the pictures.

