

**TAREAS PF B
PRIMARIA Sede Chapultepec**

Titular: Ana María Bernal

Miss: Olivia Salazar

Monday October 27, 2014 – Lunes 27 de Octubre del 2014			
Materia	Descripción	Referencias	
ESPAÑOL	Completa con ar o ra y repasa la palabra.	Anexo 1 libreta azul	10 min.
MATEMÁTICAS	Contestar la copia “Antecesor y sucesor”	Copia libreta amarilla	15 min.
INGLES	Draw the vocabulary words: <i>dolphin, donut, dresser, earth, elbow, envelope, fire, fork, fox.</i>	Red notebook	10 min.

Tuesday October 28, 2014 – Martes 28 de Octubre del 2014			
Materia	Descripción	Referencias	
ESPAÑOL	Une con el dibujo según corresponda y repasa la palabra que tiene am, em, om.	Anexo 2 libreta azul	10 min.
MATEMÁTICAS	Contestar la copia del problema	Copia libreta amarilla	15 min.
INGLES	Write two times the vocabulary words: <i>dolphin, donut, dresser, earth, elbow, envelope, fire, fork, fox.</i>	Red notebook	15 min.
RELIGIÓN	Rezar un Avemaría por las ánimas del purgatorio.		

Wednesday October 29, 2014 – Miércoles 29 de Octubre del 2014			
Materia	Descripción	Referencias	
ESPAÑOL	Ordena las siguientes frases en tu libreta.(escríbelas)	Anexo 3 libreta azul	15 min.
MATEMÁTICAS	Contestar la Pág. 14 del libro de Q´bits	Libro de Q- bits	10 min.
INGLÉS	Draw your own hands. - Trace with red your left hand. - Trace with blue your right hand. Identify and write: <i>left, right.</i>	Red notebook.	10 min.







Thursday October 30, 2014 – Jueves 30 de Octubre del 2014			
Materia	Descripción	Referencias	
ESPAÑOL	Recortar, pegar en la libreta los dibujos con la palabra que corresponde.	Anexo 4 libreta azul	15 min.
MATEMÁTICAS	Contestar la copia “Mayor y menor que”	Copia libreta amarilla	15 min.
INGLÉS	Be Fluent Unit 2. Lesson 4 p.109 track 29	UNO Book.	5 min.

Friday October 31, 2014 – Viernes 31 de Octubre del 2014

Materia	Descripción	Referencias	
ESPAÑOL	Imprimir y contestar modulo	Anexo 5	20 MIN.
MATEMATICAS	Imprimir y contestar modulo	Anexo 6	20 min.
INGLÉS	Imprimir y contestar modulo	Annex 7	20 min.
FRANCES	Imprimir y contestar modulo Cuenta los objetos y escribe el numero en letras	Annex 8	20 min.

ANEXO 1

Completa con ar o ra y repasa la palabra.

 _____tón	 _____mario	 _____dilla
 _____na	 _____pa	 _____ma

ANEXO 2

Une con el dibujo según corresponda y repasa la palabra que tiene am, em, om.

empanada

mano

ombligo

moto

ampolla

mono

empujar

mono



ANEXO 3

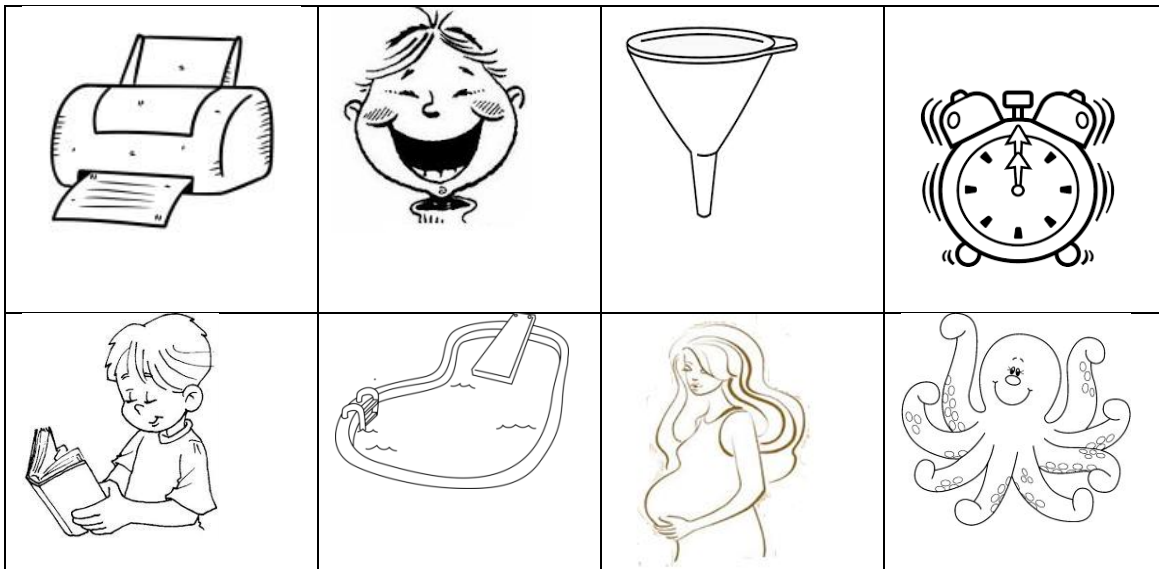
Ordena las siguientes frases en tu libreta. (escribelas)

dejo	sus	patines.	Sara	me
las	botas.	lleva	Teo	
unas	rosquillas	muy	ricas.	Mi mamá hace

ANEXO 4

Recortar, pegar en la libreta los dibujos con la palabra que corresponde.

impresora	leer	pulpo	embudo
reír	piscina	embarazada	despertador




ANEXO 5 MODULO

Nombre _____ Grado: _____

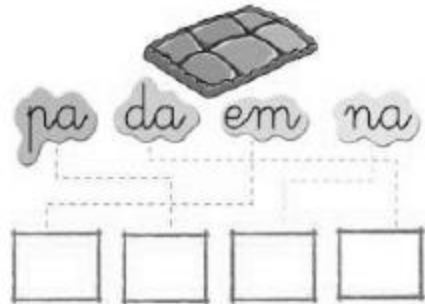
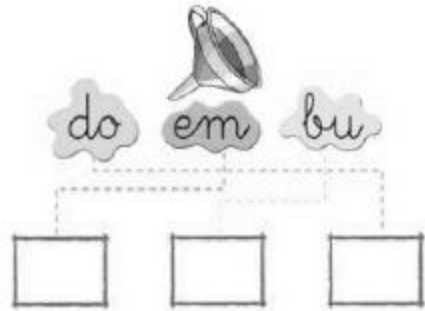
Maestra: _____ Fecha: _____

Frase: "Hablo bien de los demás"


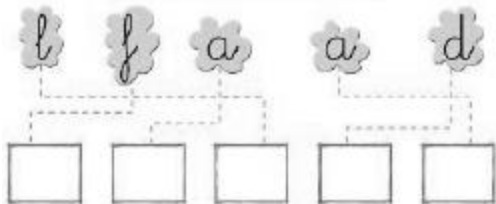
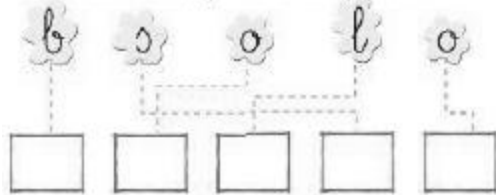
Busca las palabras que tienen ar y er, colorea sus dibujos y escríbelas.




Ordena las sílabas y escribe las palabras.








Ordena las letras y escribe las palabras.



Repasa las palabras, únelas con su dibujo y escríbelas.



Busca las palabras y repásalas.

 leer	l	e	e	r	o	r	 oír
 reír	l	m	o	f	r	h	
 beber	c	a	e	a	tu	b	
	k	b	e	b	e	r	 caer

ANEXO 6 MODULO

Alumna: _____ Grado: _____

Maestra: _____ Fecha: _____

Frase: "Hablo bien de los demás"

1. Realiza las siguientes sumas.

$$\square\square\square\square + \square\square\square = \underline{\hspace{2cm}}$$

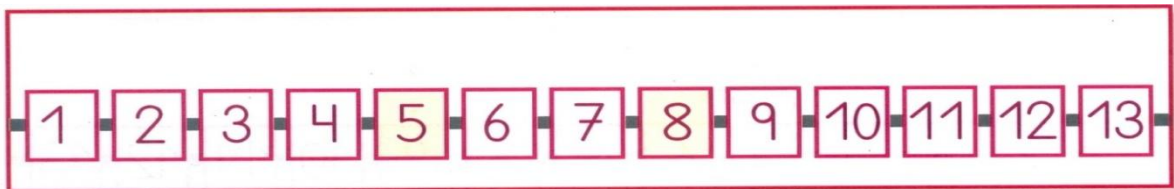
$$\square\square + \square\square\square\square\square = \underline{\hspace{2cm}}$$

$$\square\square\square\square\square + \square\square\square = \underline{\hspace{2cm}}$$

$$\square + \square\square\square\square\square\square\square\square = \underline{\hspace{2cm}}$$

$$\square\square + \square\square\square\square\square\square = \underline{\hspace{2cm}}$$

2.- Resuelve las siguientes operaciones con la recta numérica.



$$3 + 2 = \underline{\hspace{2cm}}$$

$$5 + 5 = \underline{\hspace{2cm}}$$

$$4 + 3 = \underline{\hspace{2cm}}$$

$$6 + 3 = \underline{\hspace{2cm}}$$



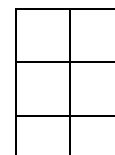

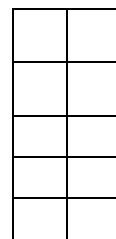
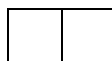

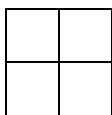
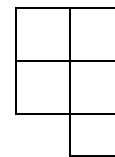

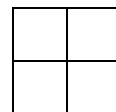
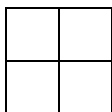
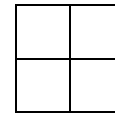
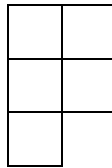

$9 + 1 = \underline{\quad}$

$6 + 5 = \underline{\quad}$

3. Escribe el antecesor y el sucesor.

<i>Antecesor</i>		<i>Sucesor</i>
_____	8	_____
_____	4	_____
_____	5	_____
_____	2	_____
_____	9	_____

4. Dibuja el muñequito tragón que corresponda en cada espacio.




ANNEX 7 MODULO



Name: _____

Date: _____

1. Color with red the left hands.
2. Color with blue the right hands.



3. Color the correct ball.



Color the ball on the left.



Color the ball on the right.



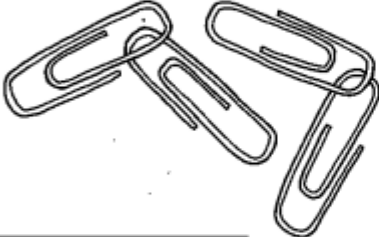



ANEXO 8 MODULO

NOM: _____ Degré: _____

Maîtresse: _____ Date: *Vendredi 31 octobre 2014*

Les nombres

- **Instructions:** Comptez les objets et écrivez le nombre en lettres.

 <p>_____</p>	 <p>_____</p>
 <p>_____</p>	 <p>_____</p>
 <p>_____</p>	 <p>_____</p>

Un	Deux	Trois	Quatre	Cinq
Six	Sept	Huit	Neuf	Dix