

TAREAS PF B
PRIMARIA Sede Chapultepec

Titular: Ana María Bernal

Monday, May 2 2016 – Lunes 2 de Mayo de 2016		
Materia	Descripción	Referencias
Español	Busca en revista o utiliza una foto del teatro.	Libreta azul
Matemáticas	Anexo 1	Libreta amarilla
Inglés	Print out annex # 2 and answer.	Red notebook.

Tuesday, May 3 2016- Martes 3 de Mayo de 2016		
Materia	Descripción	Referencias
Español	Conseguir un boleto de una obra de teatro	No aplica
Matemáticas	Contestar pagina 121, punto 5	Libro de matemáticas
Inglés	Write five sentences with the voc. words: <i>bike, board game, boat, doll, puppet.</i> Use: "I want". Example: "I want a bike".	Red notebook.


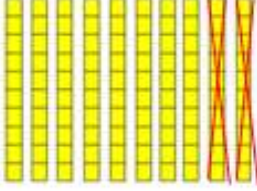










Wednesday, May 4 2016 – Miércoles 4 de Mayo de 2016		
Materia	Descripción	Referencias
Español	Contestar página 100 del libro de lectura	Libros de léeme.
Matemáticas	Anexo 3	Libreta amarilla
Inglés	1. Write 2 times the voc. words: <i>skateboard, skates, train, videogame,</i> Draw and color.	Red notebook.

Thursday, May 5 2016 – Jueves 5 de Mayo de 2016		
Materia	Descripción	Referencias
	SUSPENSIÓN DE LABORES	

Friday, May 6 2016 - Viernes 6 de Mayo de 2016		
Materia	Descripción	Referencias
Español	Contestar puntos 2y3 página 54	Libro de léeme
Matemáticas	Módulo Anexo 4	Folder
Inglés	Watch the video: https://www.youtube.com/watch?v=zXEg-QO3xTg and answer annex.	Annex , red notebook

ANEXO 1

Realiza las siguientes operaciones y colorea el resultado correcto, Fijate en el ejemplo

Operación	Cambio	Resultado
 -20		
 -80		
 -40		
 -60		

ANEXO 3

Escribe el número que esta ENTRE los otros dos

15 ___ 17

25 ___ 27

69 ___ 71

83 ___ 85

Escribe el número que es UNO MENOS QUE del número que se da

___ 25

___ 87

___ 100

___ 20

Escribe el número que es 10 MAS QUE el número que se da

42 ___

63 ___

26 ___

78 ___

ANNEX 2

1. Trace the words using different colors.
2. Match the word to the correct picture.
3. Color the pictures.



videogame

boat



car



skates



bike




action
figure



doll



skateboard



ANEXO 4
MODULO DE MATEMATICAS

Nombre: _____

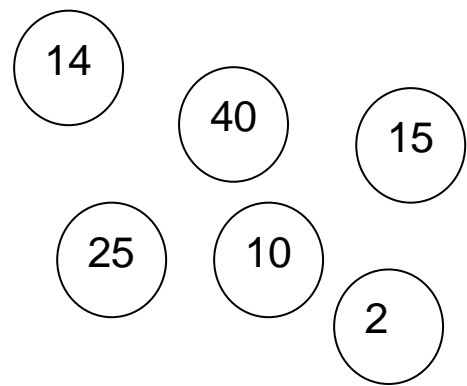
Fecha: _____

Frase: "Tu eres dueño de las cosas, no esclavo de ellas"

Instrucciones:

1- Observa los números de los círculos y lee las indicaciones para poder colorearlos.

- De azul, 15 más 10
- De verde, la mitad de 4
- De rosa, el doble de 5
- De morado, 50 menos 10
- De naranja, 16 menos 1
- De café, 13 más 1



2- Escribe en cada recuadro el número que está ENTRE los otros dos

10		12
----	--	----

37		39
----	--	----

98		100
----	--	-----

3- Escribe en cada recuadro los números que son UNO MENOS QUE y UNO MAS QUE el número que se da

	21	
--	----	--

	32	
--	----	--

	61	
--	----	--

4- Escribe en los recuadros los números que son 10 MENOS QUE y 10 MAS QUE el número que se da

	25	
--	----	--

	78	
--	----	--

	52	
--	----	--