

TAREAS PF-A
PRIMARIA Sede Chapultepec

Titular: Kimberly Penne

Monday, May 23 2016 – Lunes 23 de mayo de 2016		
Materia	Descripción	Referencias
Español	Puntos 1 y 3 página 60	Libros de léeme
Matemáticas	Elaborar el punto 5 de la pág. 137	Matemáticas del castillo
Inglés	1. Watch the video: https://www.youtube.com/watch?v=TR5RcutMu7c 2. Answer the questions in your red notebook.	MONDAY NO NEED TO PRINT OUT
Religión	Traer media cartulina blanca.	

Tuesday, May 24 2016- Martes 24 de mayo 2016		
Materia	Descripción	Referencias
Español	Buscar palabras en revista, periódico, libros o escribelas con “b” y “v”	Libreta azul
Matemáticas	Anexo 1	Libreta amarilla
Inglés	1. Write <u>2 times</u> the voc. words <u>using different colors</u> : <i>pad, sandals, seven, toes.</i> 2. Draw and color the pictures.	Red notebook.

Wednesday, May 25 2016 – Miércoles 25 de mayo 2016		
Materia	Descripción	Referencias
Español	Anexo 2	Libreta azul
Matemáticas	Elaborar segunda parte de la pág. 92	Libro de Q-bits
Inglés	Write a sentence with each of the voc. words: <i>tongue, umbrella, up, vest, violin.</i>	Red notebook.
Francés	Apporter une photo de tafamille. Traer una foto de tu familia	

Thursday, May 26 2016 – Jueves 26 de Mayo de 2016		
Materia	Descripción	Referencias
Español	Dibuja al burro flautista tocando el instrumento.	Libreta azul
Matemáticas	Contestar punto 5 y 6 de la pág. 155	Matemáticas del castillo
Inglés	Be Fluent, Unit 7, Lesson 4, pg. 131, track 32.	UNO book.

Friday, May 27 2016 - Viernes 27 de Mayo de 2016		
Materia	Descripción	Referencias
Español	Módulo 3	Folder
Matemáticas	Modulo 4	Folder
Inglés	Print out annex # 5 and answer.	Folder

ANEXO 1

1.- Escribe en el recuadro el número faltante.

$5 + 6 = 11$

$5 + 3 = \square$

$4 + 5 = \square$

$8 + 2 = \square$

$6 + 3 = \square$

$3 + 3 = \square$

Anexo 2

Con que se escriben estos nombres "B" o "V".

___alentín	___lanca	___erónica	___elén
___i__iana	___enito	___erta	___íctor

MODULO DE ESPAÑOL 3

Nombre: _____ Grado: _____

Fecha: _____ Maestra: _____

1.- Escribe la letra v o b a las palabras que faltan.

Ha__ía una __ez una niña __onita. su mamá la quería y su
a__uelita tam__ién. __estía una caperuza roja y un __estido
__ordado. En el __osque se encontró al lo__o feroz. Caperucita
lle__a__a una canasta con comida y una __otella con miel de
a__eja.

2.- Ordena las palabras donde corresponde

barco	balero	vista	bosque
valor	basura	vuelo	blanco
venta	viaje	biberón	beso
verde	bonito	vuelta	volar

“V”

“B”

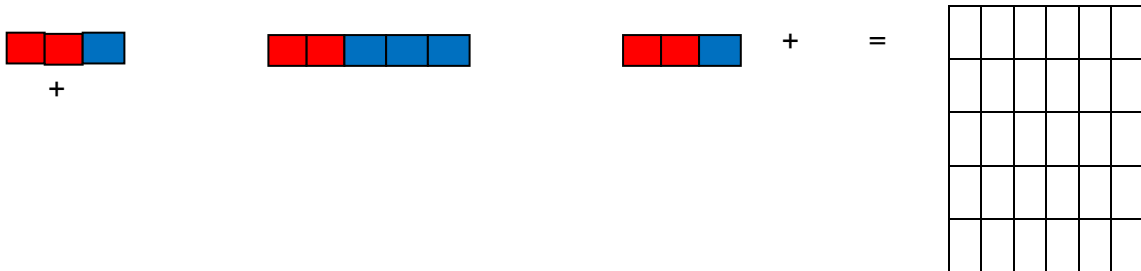
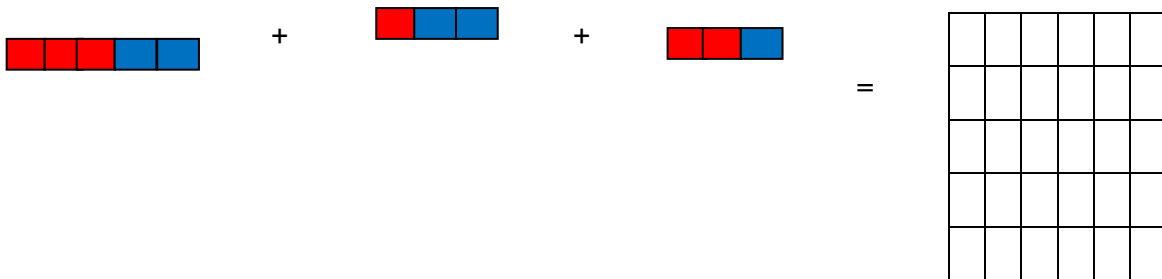
MODULO DE MATEMATICAS 4

Nombre: _____


Fecha _____

Frase : "Las normas de educacion dan distincion "

Resuelve los siguientes ejercicios .

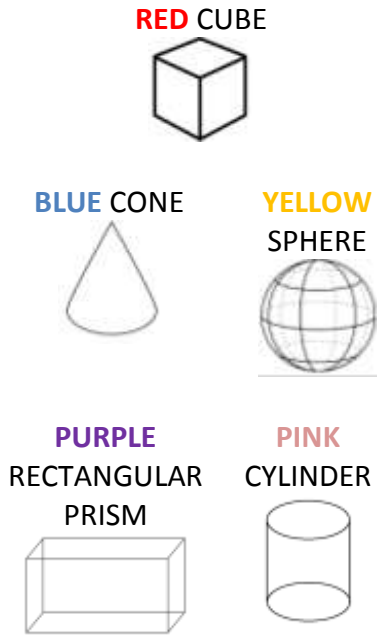
2.- Haz la suma y escribe cuantas manzanas hay en total.






___ + ___ + ___ + ___ + ___ = ___

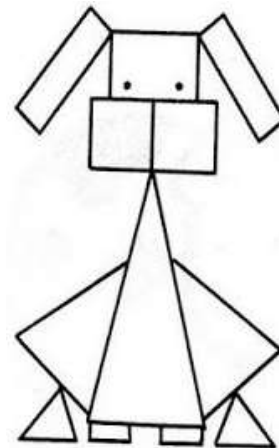
ANNEX 5

1.- Color each shape.



2. Count and color.

COLOR	HOW MANY?
<i>brown</i>	 =
<i>gray</i>	 =
<i>black</i>	 =



ANNEX
NO NEED TO PRINT OUT



What is Jinsu
doing?



What is Sally
doing?



What are they
doing?



What is she
doing?