

**TAREAS PRE-FIRST  
PRIMARIA Sede Primavera**

**Titulares: Gracia Cristina Aguilar y Miss Magui Mendez**

<b>Lunes 08 de marzo</b>			
<b>Materia</b>	<b>Descripción</b>	<b>Referencias</b>	
<b>Español</b>	Hoja de trabajo: completar si es singular o plural. (10 min).	Anexo # 1	
<b>Matemáticas</b>	Calcular y completar sumas de la serie del 2. (15 min).	Anexo 2.	
<b>Inglés</b>	Write vocabulary words (20 min)	notebook	

<b>Martes 09 de marzo</b>			
<b>Materia</b>	<b>Descripción</b>	<b>Referencias</b>	
<b>Español</b>	Lectura (20 min).	Anexo # 3	
<b>Matemáticas</b>	(5 min).	Cuaderno de matemáticas.	
<b>Inglés</b>	Use the number line to subtract the numbers. (20 min)	Anexo# 4	

<b>Miércoles 10 de marzo</b>			
<b>Materia</b>	<b>Descripción</b>	<b>Referencias</b>	
<b>Español</b>	Escribir 3 cosas que pueden hacer para cuidar el agua, y hacer un dibujo de cada una en su cuaderno. (20 min).	Cuaderno de español	
<b>Matemáticas</b>	Resolver sumas en su cuaderno. (5 min).	Cuaderno matemáticas.	
<b>Inglés</b>	Write vocabulary words. 20min	notebook	

<b>Jueves 11 de marzo</b>			
<b>Materia</b>	<b>Descripción</b>	<b>Referencias</b>	
<b>Español</b>	Realizar una oración con cada una de las palabras: charco, lluvia, río, océano, mar y playa. (10 min)	Cuaderno español	
<b>Matemáticas</b>	Calculo Mental. ( 10 min)	Hoja de cálculo	
<b>Inglés</b>	1. Homeschooling (10 min) 2. Circle the beginning letter of each picture.(10 min)	Anexo# 5	

<b>Viernes 12 de marzo</b>			
<b>Materia</b>	<b>Descripción</b>	<b>Referencias</b>	
<b>Español</b>	(20 min)	Anexo # 6	
<b>Matemáticas</b>	( 15 min)	Anexo # 6	
<b>Inglés</b>	English module. (20 min)	Anexo #7	

ANEXO # 1.




Nombre: \_\_\_\_\_

Fecha: \_\_\_\_\_

1. *Escribe que es* y completa si es SINGULAR O PLURAL. Observa el ejemplo que te doy.



*Leones - plural*



2. Completa

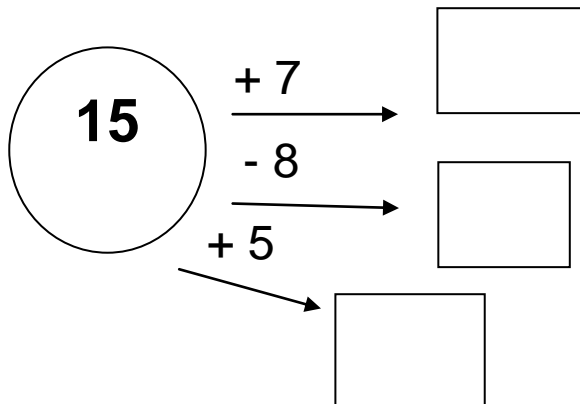
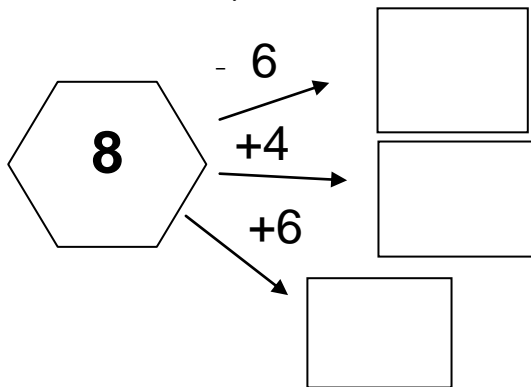
SINGULAR	PLURAL
<i>beso</i>	
	<i>libros</i>
<i>árbol</i>	
	<i>computadoras</i>

## ANEXO # 2

Nombre: \_\_\_\_\_

Fecha: \_\_\_\_\_

1. Calcula y resuelve.



2. Completa

$2+2 = \underline{\hspace{2cm}}$

$2+2+2+2+2 = \underline{\hspace{2cm}}$

$2+2+2 = \underline{\hspace{2cm}}$

$2+2+2+2+2+2 = \underline{\hspace{2cm}}$

$2+2+2+2 = \underline{\hspace{2cm}}$

$2+2+2+2+2+2+2 = \underline{\hspace{2cm}}$

## Anexo # 3

Lectura de comprensión

Pre - First

Nombre: \_\_\_\_\_

Fecha: \_\_\_\_\_

Lee el siguiente cuento

### EL OSITO



Un osito pardo que vive en la montaña busca panales de miel entre los pinos. Las abejas no lo quieren y él no sabe por qué.

Osito travieso, no robes a las abejas su miel; ellas trabajaron todo el día, mientras tu dormías.

-Vete de aquí, osito- le dice la abeja mayor- , busca moras entre las ramas y no vengas a interrumpir nuestra labor.

Y el osito se va triste, caminando despacito. De pronto, se encuentra una higuera fragante. ¡Qué feliz serás, osito, comiendo ese fruto dulce como la miel!

## Contesta las preguntas

1. ¿Por qué no quieren las abejas al osito?

---

---

2. ¿Por qué el osito estaba triste?

---

---

3. Si le cambiaras el título al cuento, ¿Cómo le pondrías?

---

---

4. ¿Qué pasó al final del cuento?

---

---

5. ¿Te gustó la historia? \_\_\_\_\_

6. ¿Por qué? \_\_\_\_\_

---

Firma Padres

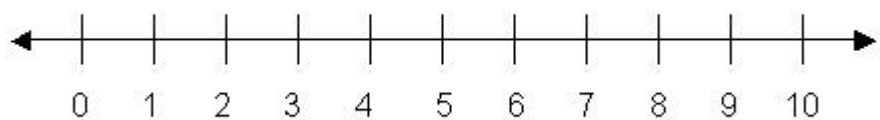
---

## Anexo# 4

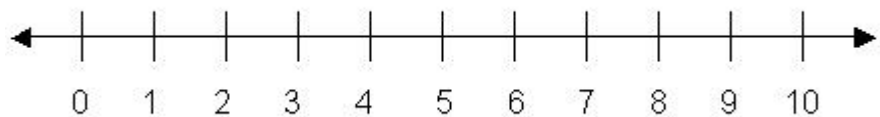
## Homework

Name: \_\_\_\_\_

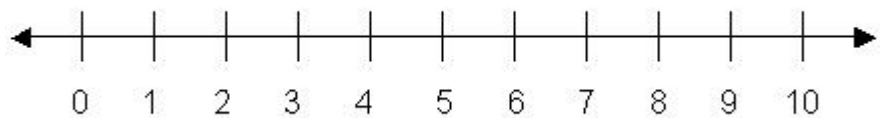
Use the number line to subtract the following numbers.



$$9 - 5 = \underline{\quad}$$



$$10 - 6 = \underline{\quad}$$



$$8 - 7 = \underline{\quad}$$













## Anexo # 5

### Homework

Name: \_\_\_\_\_

Circle the beginning letter of each picture below.

Color the pictures.

<p>a e</p> 	<p>f i</p> 	<p>a c</p> 	<p>g d</p> 
<p>l z</p> 	<p>a b</p> 	<p>a h</p> 	<p>l m</p> 
<p>e c</p> 	<p>x c</p> 	<p>d c</p> 	<p>b t</p> 

## Anexo # 6

Módulo de fin de semana.

Pre- First


Nombre: \_\_\_\_\_

Fecha: \_\_\_\_\_

### 1. Lee el siguiente texto

#### ¡QUIEN ENTIENDE A MI MAMA!

-Mamá, cuando yo sea grande, pilotearé un avión plateado y volaré hasta el cielo. De allá te traeré una estrella de recuerdo.



-Bueno querido; pero tomate la sopa. –Si mamá. Después tomaré un tren rápido para ir al país en donde las casas son de turrón y las ventanas de dulce. Yo le traeré un pedazo de recuerdo.

-Bueno querido, pero tomate la sopa-

-Si, mamá. Del tren saltaré a bordo de una barco que me estará esperando y yo solo cruzaré el mar hasta encontrar el submarino negro, entraré en él y bajaré hasta el fondo del mar, de allí te traeré un montón de perlas.

-¡Ándale, Benjamín, deja de platica y termínate la sopa! ¡Te he dicho muchas veces que en la mesa los niños comen y callan!

¡Quien entiende a mi mama! ¡Aunque a cada lugar a donde voy le traigo un regalo... me regaña!

Contesta las siguientes preguntas

1. ¿Qué quería la mamá de Benjamín?

---

---

2. ¿Por qué dice la mamá, que en la mesa los niños  
“comen y callan”?

---

---

3. ¿Te pasa a ti lo de Benjamín?

---

4. ¿Qué le dices a tu mamá cuando no quieres comer y ella  
te llama la atención?

---

---

5. Completa si es singular (UNO ) o plural (MUCHOS).

árboles : plural \_\_\_\_\_

Casas \_\_\_\_\_

Libro \_\_\_\_\_

Muñeca \_\_\_\_\_

Abuelo \_\_\_\_\_

Hermanos \_\_\_\_\_

6. Realiza una oración con cada una de las siguientes palabras.

RECUERDA EMPEZAR CON MAYÚSCULA Y TERMINAR CON PUNTO.

amiguito    agua    manguera    gasa    quinda

---

---

---

---

---

---

---

## MATEMATICAS

1. Resuelve los siguientes problemas

Ana María tiene 14 canicas, y su abuela le compró en el supermercado otras 5 canicas. ¿Cuántas canicas tiene Ana María ahora?

En el patio de mi casa hay 5 pajaritos todas las mañanas, pero esta mañana llegaron 7 pajaritos más. ¿Cuántos pajaritos hay en total?

2. Resuelve las sumas y restas

$4 + 6 + 7 = \underline{\hspace{2cm}}$

$9 + 3 + 6 = \underline{\hspace{2cm}}$

$10 - 1 = \underline{\hspace{2cm}}$

$10 - 2 = \underline{\hspace{2cm}}$

$12 - 2 - 5 = \underline{\hspace{2cm}}$

$10 - 1 + 5 = \underline{\hspace{2cm}}$

Anexo # 7  
English module

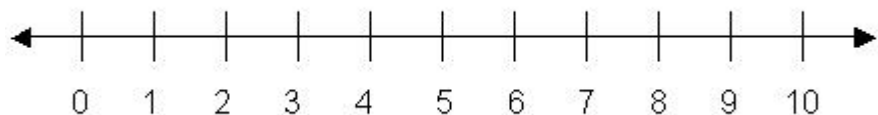
Name : \_\_\_\_\_

Identify the words beginning with "ch" and "sh" and write them in the corresponding column.

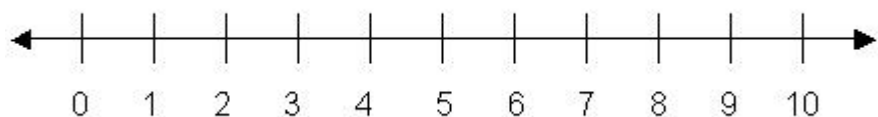
cheese    chocolate    shovel    shell    chair  
shirt    shark    chain    chicken    share  
chess    chest    cherries

ch	sh

Use the number line to subtract the following numbers.



$$10 - 5 = \underline{\hspace{2cm}}$$



$$8 - 2 = \underline{\hspace{2cm}}$$

Cut out from magazines pictures of animals that you can have in your house as pets and paste them below.

Read the following sentences and answer the comprehension questions below.

- I like to go to the pet shop in Forum; you can see many different animals like: turtles, dogs and hamsters.
- My pet is a dog, its name is Max. I love to play with Max in the park.

1. What animals mentioned in sentence number one can you see in the pet shop?

---

2. What kind of animal is my pet?

---

3. What is my pet's name?

---

4. Where do I like to play with my pet?

---