

**TAREAS 1º B**  
**PRIMARIA Sede Chapultepec**

**Titular:** Tania Logan  
**Inglés:** Miss Marissa Tirado

<b>Lunes 29 de septiembre</b>			
<b>Materia</b>	<b>Descripción</b>	<b>Referencias</b>	
ESPAÑOL	Lee "María fue al mercado" de tu libro de lecturas de SEP págs. 22 a la 37, y en tu libro español SEP contestar pág. 18 y 19.	Libro de lecturas y libro del alumno SEP	15 min
MATEMÁTICAS	Imprime y contesta: anexo 1 "Relaciona colecciones"	Anexo 1	15 min
INGLES	To answer annex 2.	Annex 2	30 min
FRANCÉS	Completa los diálogos, escribe las edades.	Anexo 3 (entregar Martes 30)	15 min

<b>Martes 30 de septiembre</b>			
<b>Materia</b>	<b>Descripción</b>	<b>Referencias</b>	
ESPAÑOL	Contestar "Tareas para la casa" solo la actividad 9 en la pág. 42 de tu libro UNO.	Libro UNO	10 min
MATEMÁTICAS	Imprime y contesta anexo 4: "las figuras"	Anexo 4	15 min
EXPLORACIÓN	Contestar "Tareas para la casa" solo la actividad 4 y 5 en la pág. 126 de tu libro UNO. Traer una revista para recortar	Libro UNO	15 min
INGLES	Draw a picture to illustrate the feelings: happy, sad, scared, excited, mad.	English notebook	20 min

<b>Miércoles 01 de octubre</b>			
<b>Materia</b>	<b>Descripción</b>	<b>Referencias</b>	
MATEMÁTICAS	Resuelve las operaciones de tu libreta.	Libreta	15 min
EXPLORACIÓN	Imprimir y contestar anexo 5: "Actividades del día y la noche"	Anexo 5	10 min
FORMACIÓN CÍVICA Y ÉTICA	Imprimir y contestar anexo 6: "Buenas acciones para la salud"	Anexo 6	10 min
INGLES	To answer annex 7.	Annex 7	10 min
RELIGIÓN	De la lección 4 de tu libro de texto, realiza la 1era actividad en donde te piden que dibujes a 2 niños haciendo la tarea y escribir debajo la frase: " Los hijos de Dios debemos servir a los demás".	Libro de religión	20 min.



Jueves 02 de octubre			
Materia	Descripción	Referencias	
ESPAÑOL	Contesta la copia "Orden alfabético" de tu libreta.	Libreta	15 min
MATEMÁTICAS	Lee la pág. 35 y contestar pág. 36	Libro SEP	15 min
INGLES	Be fluent page 83. (U2 Week 7).	English book	10 min

Viernes 03 de octubre			
Materia	Descripción	Referencias	
ESPAÑOL	Imprimir y contestar: Módulo 1 "Portadas de los libros"	Módulo 1	10 min
MATEMÁTICAS	Imprimir y contestar: Módulo 2 "Colecciones y series"	Módulo 2	15 min
INGLES	Label and color on Page 58.	English book	10 min


Anexo 1  
Matemáticas

Nombre: \_\_\_\_\_


Fecha: \_\_\_\_\_

Frase: \_\_\_\_\_


1.- Relaciona las colecciones con su número.




10 diez



14 catorce



16 dieciséis



9 nueve

ANNEX 2

Name: \_\_\_\_\_

Complete each sentence with the correct word from the box. Then color the pictures.

She                      They                      He

1)



\_\_\_\_\_ are together.

2)



\_\_\_\_\_ is pretty.

3)



\_\_\_\_\_ is a prince.

Anexo 3  
Français 1ere


NOM: \_\_\_\_\_

Date: Lundi 29 septembre 2014.

Phrase : Je parle bien des autres

Thème: Exprimer l'âge.

Instructions: Complete les dialogues.



ANEXO 4  
Matemáticas 1º




Nombre: \_\_\_\_\_

Fecha: \_\_\_\_\_

Frase: \_\_\_\_\_

Las figuras

1.- Colorea las figuras y ponle sus nombres.



2.- ¿Cuántos lados tiene un triángulo?

\_\_\_\_\_

3.- ¿Cuál figura tiene cuatro lados?

\_\_\_\_\_

4.- ¿Qué figura se parece a una pelota?

\_\_\_\_\_

ANEXO 5  
EXPLORACIÓN DE LA NATURALEZA Y LA SOCIEDAD 1º


Nombre: \_\_\_\_\_

Fecha: \_\_\_\_\_

Frase: \_\_\_\_\_

*Actividades del día y la noche*

Recorta las actividades de la siguiente página y pégalas en los recuadros, considera el horario en que las realizas.







ANEXO 6  
FORMACIÓN CÍVICA Y ÉTICA 1º

Nombre: \_\_\_\_\_

Fecha: \_\_\_\_\_

Frase: \_\_\_\_\_

*Buenas acciones para la salud*

Ya hemos visto que hay hábitos que nos ayudan a tener una vida más saludable, pero además de ellos, hay actividades que nos divierten al mismo tiempo son muy buenas para nuestro cuerpo y mente.

1. ¿Sabes cuales son las actividades que te ayudan a verte y sentirte mejor? Encierran las que te benefician.



ANNEX 7

Name: \_\_\_\_\_

A) Write the correct name under each number and color.

Three	Nine	Six	Eight	Two	One	Four	Seven	Five
-------	------	-----	-------	-----	-----	------	-------	------

1

\_\_\_\_\_

2

\_\_\_\_\_

3

\_\_\_\_\_

4

\_\_\_\_\_

5

\_\_\_\_\_

6

\_\_\_\_\_

7

\_\_\_\_\_

8

\_\_\_\_\_

9

\_\_\_\_\_

MÓDULO 1  
ESPAÑOL 1º

Nombre: \_\_\_\_\_

Fecha: \_\_\_\_\_

Frase: \_\_\_\_\_

Portadas de los libros

1. Escribe cada palabra en su significado

título

editorial

biblioteca

autor

a) En ella puedes encontrar muchos libros para consultar o llevarlos a casa para leer: \_\_\_\_\_

b) Nombre que se le da a quien escribe libros: \_\_\_\_\_

c) Es la encargada de hacer los libros: \_\_\_\_\_

d) Nombre de un libro, lo encuentras en las portadas.

\_\_\_\_\_

2. Toma de tu casa 3 libros, escribe el título de cada uno y anota el nombre de su autor. (recuerda utilizar mayúsculas cuando sea necesario)

Libro	El título del libro es:	El nombre del autor es:
1		
2		
3		

3. Ordena por orden alfabético los títulos de los libros anteriores:

1. \_\_\_\_\_

2. \_\_\_\_\_

3. \_\_\_\_\_

MÓDULO 2  
MATEMÁTICAS 1º









Nombre: \_\_\_\_\_

Fecha: \_\_\_\_\_


Frase: \_\_\_\_\_

*Colecciones y series*


1.- Dibuja las figuras que se obtienen.

<p>Había</p> <div style="border: 1px solid black; border-radius: 15px; padding: 10px; display: inline-block; margin-bottom: 10px;"> <p>9 </p> </div> <div style="border: 1px solid black; border-radius: 15px; padding: 10px; display: inline-block;"> <p>6 </p> </div>	<p>Quito</p> <div style="border: 1px solid black; border-radius: 15px; padding: 10px; display: inline-block; margin-bottom: 10px;"> <p>1 </p> </div> <div style="border: 1px solid black; border-radius: 15px; padding: 10px; display: inline-block;"> <p>2 </p> </div>	<p>Tengo</p> <div style="border: 1px solid black; border-radius: 15px; height: 60px; width: 100%;"></div> <div style="border: 1px solid black; border-radius: 15px; height: 60px; width: 100%;"></div>
<p>Tenía</p> <div style="border: 1px solid black; border-radius: 15px; padding: 10px; display: inline-block; margin-bottom: 10px;"> <p>6 </p> </div> <div style="border: 1px solid black; border-radius: 15px; padding: 10px; display: inline-block;"> <p>9 </p> </div>	<p>Agrego</p> <div style="border: 1px solid black; border-radius: 15px; padding: 10px; display: inline-block; margin-bottom: 10px;"> <p>2 </p> </div> <div style="border: 1px solid black; border-radius: 15px; padding: 10px; display: inline-block;"> <p>1 </p> </div>	<p>Tengo</p> <div style="border: 1px solid black; border-radius: 15px; height: 60px; width: 100%;"></div> <div style="border: 1px solid black; border-radius: 15px; height: 60px; width: 100%;"></div>

2.- Escribe cuanto falta a la primera colección para igualar la segunda colección.

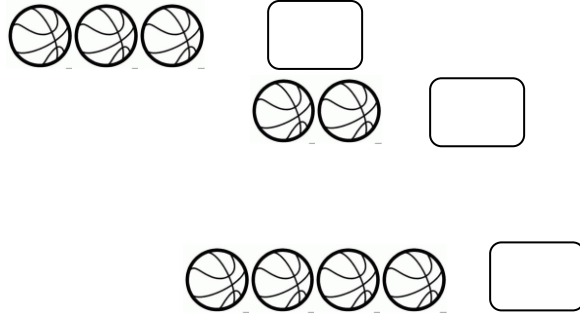








3.- ¿Cuántas pelotas faltan para que cada niño tenga una?  
Elige la opción correcta.



4.- Rodea las actividades que puedes realizar en la mañana dentro de la escuela.



5.- ¿Qué número sigue en la serie? Escribe el número que le falta.

20 - 21 - 22 - 23 - 24 - 25 - 26 - 27 -  -  -

28 - 29 - 30 -  -  - 33 -  - 35 - 36 -

2 - 4 - 6 -  - 10 -  - 14 -  - 18 -  -

3 - 6 - 9 - 12 -  -  -  -  -  -