

**TAREAS 1º A y B  
PRIMARIA Sede Primavera**

**Titular: Damaris Núñez Durán, Elisa Choza Ron.**

| <b>Lunes 07 de Abril del 2014</b> |  |                       |  |
|-----------------------------------|--|-----------------------|--|
| <b>Materia</b>                    | <b>Descripción</b>                     | <b>Referencias</b>    |  |
| MATEMÁTICAS                       | -Repasa tu guía de estudio para examen | -Ya lo tienes impreso |  |
| INGLÉS                            | BE Global p. 158 (10 min)              | Book                  |  |

| <b>Martes 08 de Abril del 2014</b> |   |                      |         |
|------------------------------------|---|----------------------|---------|
| <b>Materia</b>                     | <b>Descripción</b>                                  | <b>Referencias</b>   |         |
| EXPLORACIÓN                        | -Imprime y contesta la guía de estudio para examen. | -Imprime y contesta. | Anexo 1 |
| INGLÉS                             | BE an Artist p. 165 (10 min)                        | Book                 |         |

| <b>Miércoles 09 de Abril del 2014</b> |   |                    |         |
|---------------------------------------|---|--------------------|---------|
| <b>Materia</b>                        | <b>Descripción</b>  | <b>Referencias</b> |         |
| Formación Cívica y Ética              | - Imprime y contesta la guía de estudio para examen.  | Imprime y contesta | Anexo 2 |
| INGLÉS                                | In page 168 write a sentence for each word: hair, face, bath, brush, sleep, eat, clean.(10 min) | Book               |         |

| <b>Jueves 10 de Abril del 2014</b> |  |                         |  |
|------------------------------------|--|-------------------------|--|
| <b>Materia</b>                     | <b>Descripción</b>   | <b>Referencias</b>      |  |
| ESPAÑOL                            | -Lee el cuento que se te entregó en clase y realiza la evidencia de lectura. | -Se entregará en clase. |  |
| MATEMÁTICAS                        | -Realiza la actividad 4 y 5 de la pág. 121.                                  | -Libro SEP.             |  |
| INGLÉS                             | BE Fluent p. 176 (10 min)  | Book                    |  |

Viernes 11 de Abril del 2014

| Materia     | Descripción  | Referencias           |  |
|-------------|--|-----------------------|--|
| ESPAÑOL     | -Realiza el cuadernillo de tarea de vacaciones, lo entregarás engargolado. | .Se entregará impreso |  |
| MATEMÁTICAS | -Realiza el cuadernillo de tarea de vacaciones, lo entregarás engargolado. | -Se entregará impreso |  |

Guía de estudio  
Exploración de la Naturaleza 1°

Nombre: \_\_\_\_\_

Fecha: \_\_\_\_\_

Frase: \_\_\_\_\_

I. Lee con atención y responde lo que se te indica.

En México existe una gran variedad de casas. Se utilizan diferentes materiales para construirlas, dependiendo de las características del lugar, del clima y de los recursos que se tengan disponibles.

1. ¿De qué materiales está hecha la casa dónde vives?

\_\_\_\_\_  
\_\_\_\_\_.

2. Dibuja la fachada de tu casa.



3. Observa los distintos materiales con los que están hechas las casas y escribe sobre las líneas los lugares donde haya ese tipo de viviendas.




---



---



---

Las personas se dedican a diferentes actividades cuya finalidad es satisfacer necesidades de los habitantes de la localidad.

4. Relaciona cada trabajo con el lugar donde se realiza.



Escuela



Fábrica



Hospital



Comercio

Los medios de transporte permiten el traslado de personas y objetos de un lugar a otro.

5. Menciona los medios de transporte que existen en tu localidad.


---

6. ¿Qué medio de transporte usas más para trasladarte?

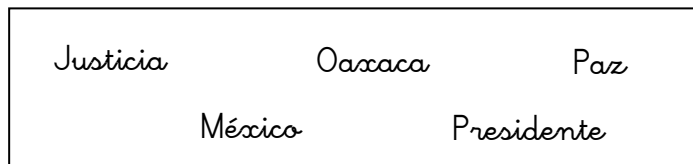
---

El reloj nos ayuda a medir el tiempo. Nos indica la hora en la que realizamos nuestras actividades

7. Escribe los números en el reloj y después dibuja las manecillas para que marque las 3:00.



8. La manecilla más corta indica las \_\_\_\_\_.
9. La manecilla mediana indica los \_\_\_\_\_.
10. Los \_\_\_\_\_ lo indica la manecilla más larga.
11. Lee el texto y complétalo con las palabras del recuadro.



Benito Juárez nació en el estado de \_\_\_\_\_ el 21 de Marzo de 1806. Fue \_\_\_\_\_ de \_\_\_\_\_ y siempre se interesó por la \_\_\_\_\_; es recordado por su lema: "Entre los individuos, como entre las naciones, el respeto al derecho ajeno es la \_\_\_\_\_".

12. ¿Qué significa este lema para ti? \_\_\_\_\_
- \_\_\_\_\_
- \_\_\_\_\_

Los objetos que nos iluminan y emiten calor son conocidos como fuentes de luz y calor.

13. Dibuja tres fuentes de luz y calor que hay en tu casa.

14. ¿Qué pasaría si no tuviéramos Sol? \_\_\_\_\_

\_\_\_\_\_  
\_\_\_\_\_.

15. Escribe el nombre de cinco objetos que emiten sonidos.

\_\_\_\_\_  
\_\_\_\_\_.

Guía de estudio  
Formación Cívica y Ética 1°

Nombre: \_\_\_\_\_

Fecha: \_\_\_\_\_

Frase: \_\_\_\_\_

I.- Lee detenidamente las preguntas y respóndelas.

1.- ¿Sabes que son las reglas? \_\_\_\_\_ ¿Que son? \_\_\_\_\_

\_\_\_\_\_

2.- ¿Para qué sirven? \_\_\_\_\_

\_\_\_\_\_

3.- Menciona 3 reglas que hay en tu salón de clases: \_\_\_\_\_

\_\_\_\_\_

\_\_\_\_\_

4.- ¿Qué pasaría si no hubiera reglas en tu escuela y en tu casa? \_\_\_\_\_

\_\_\_\_\_

II.- Anota dos necesidades y dos gustos que tengas

| Necesidades | Gustos |
|-------------|--------|
|             |        |

III.- Anota en el recuadro una R si se refiere a una responsabilidad y una D si se refiere a un derecho.

Levantar mi plato después de comer.


Tener cuidados médicos.

Tener ropa y vivienda segura.

Hacer mi tarea y entregarla a tiempo.

Cepillarme los dientes después de comer.

IV.- Anota debajo del oficio lo que hace cada persona.



MAESTRA

---

---

---

---

---

---



CONSERJE

---

---

---

---

---

---