

TAREAS 2ºB
PRIMARIA Sede Chapultepec

Titular: Estefanía Barrera E.

Lunes 22 de agosto de 2016		
Materia	Descripción	Referencias
ESPAÑOL	Imprimir y responder anexo 1	ANEXO 1
MATEMÁTICAS	Imprimir y responder anexo 2	ANEXO 2

Martes 23 de agosto de 2016		
Materia	Descripción	Referencias
ESPAÑOL	Forrado de libros SEP	SEP
MATEMÁTICAS	Imprimir y responder anexo 3	ANEXO 3

Miércoles 24 de agosto de 2016		
Materia	Descripción	Referencias
ESPAÑOL	Escribe en tu libreta 3 normas que te gustaría tener en tu salón.	LIBRETA
MATEMÁTICAS	Imprimir y responder anexo 4	ANEXO 4

Jueves 25 de agosto de 2016		
Materia	Descripción	Referencias
ESPAÑOL	Imprimir y responder anexo 5	ANEXO 5
MATEMÁTICAS	Imprimir y responder anexo 6	ANEXO 6

Viernes 26 de agosto de 2016		
Materia	Descripción	Referencias
ESPAÑOL	Leer la lectura de la pág. 30 a 33 de tu libro Español lectura SEP y realizar evidencia de lectura.	LIBRO SEP Y EVIDENCIA.
MATEMÁTICAS	MODULO 2	MODULO2

ESPAÑOL
ANEXO 1

Alumna: _____ Grado: _____

Maestra: _____ Fecha: _____

Frase: _____

Realiza lo que se te indica.

Escribe tu nombre: _____

Escribe 2 nombres que inicien con la misma letra que el tuyo.

_____ y _____ .

Escribe tu domicilio completo.

_____.

Escribe 2 palabras que terminen igual que las siguientes:

Paleta

Cuchillo

Pecera

MATEMÁTICAS
ANEXO 2

Nombre: _____

Fecha: _____

Frase: _____

Resuelve las siguientes operaciones.

$$\begin{array}{r} 123 + \\ 464 \\ \hline \end{array}$$

$$\begin{array}{r} 256 + \\ 342 \\ \hline \end{array}$$

$$\begin{array}{r} 846 + \\ 132 \\ \hline \end{array}$$

$$\begin{array}{r} 243 + \\ 735 \\ \hline \end{array}$$

$$\begin{array}{r} 137 + \\ 651 \\ \hline \end{array}$$

MATEMÁTICAS
ANEXO 4

Nombre: _____

Fecha: _____

Frase: _____

Resuelve las siguientes operaciones.

$$\begin{array}{r} 897 - \\ 275 \\ \hline \end{array}$$

$$\begin{array}{r} 678 - \\ 432 \\ \hline \end{array}$$

$$\begin{array}{r} 954 - \\ 521 \\ \hline \end{array}$$

$$\begin{array}{r} 672 - \\ 421 \\ \hline \end{array}$$

$$\begin{array}{r} 324 - \\ 213 \\ \hline \end{array}$$

ESPAÑOL
ANEXO 3

Alumna: _____ Grado: _____

Maestra: _____ Fecha: _____

Frase: _____

Realiza lo que se te indica.

1. Completa las siguientes frases utilizando las palabras del recuadro.

pequeñas	traviosos	rojos	cuentos	curioso
misterioso	viejo	madera	azul	grandes

El pantalón _____ de mezclilla es de mi Tío.

Las canicas _____ de colores están en el baúl _____.

Los zapatos _____ y _____ del payaso.

El niño _____ lee un libro _____.

2. Ordena las palabras para formar oraciones.

escucha de las en el campo El palomas canto todo se

abejas el néctar Las fabrican con miel



MATEMÁTICAS
ANEXO 5

Nombre: _____

Fecha: _____

Frase: _____

Lee con atención y resuelve los siguientes problemas.

El grupo de segundo grado va de visita a un museo, de los 32 alumnos han subido al camión 23, ¿cuántos faltan?

Operaciones

Resultado

Luis tiene un libro de colección con 6 páginas de 4 estampillas cada una, ¿cuántas estampillas necesita para llenar su libro?

Operaciones

Resultado

MATEMÁTICAS
ANEXO 6

















Nombre: _____

Fecha: _____

Frase: _____

Lee con atención y responde lo que se te pide.

Carolina ayuda a su papá en la florería, para entregar un pedido de 4 paquetes con 6 flores cada uno, ¿cuál opción debe elegir Carolina?

(A)		+		+		+	
(B)		+		+		+	
(C)		+		+		+	
(D)		+		+		+	

MODULO DE MATEMÁTICAS
MODULO 1

Alumna: _____ Grado: _____

Maestra: _____

Fecha: _____

Frase: _____

1. Contesta las siguientes operaciones.

Cuando compramos algo debemos fijarnos en los precios y cantidades, comparar diferentes marcas y así elegir el que nos conviene más.

1. Lee y encierra la respuesta.

La mamá de José lo mandó al mercado a comprar las cosas que hacían falta en su casa. Le dijo que debía fijarse en los precios y compararlos para saber cuál es el más conveniente. ¿Le ayudas?

Compara los siguientes productos y encierra el que debe comprar José.



\$ 24.50
250 ml

\$ 26.00
240 ml



\$ 31.00
1 l

\$ 35.00
1.5 l



\$ 90.50
3 l

\$ 89.00
3 l



\$ 45.00
30 pzas

\$ 40.00
30 pzas



2. Manuel consultó los precios de algunos juguetes en dos tiendas diferentes, la primera cobra el empaque para regalo aparte y en la segunda ya lo incluye

ARTÍCULOS	TIENDAS	
	CASTORES	COLORINES
balón	130 + 21	173
patineta	82 + 13	98
muñeca	175 + 28	209

¿En qué tienda es más barato el balón? _____

3. Lee y contesta lo que se te pide

$\begin{array}{r} \text{C} \quad \text{D} \quad \text{U} \\ 4 \quad 3 \quad 8 \\ + \quad 2 \quad 5 \quad 4 \\ \hline \end{array}$	$\begin{array}{r} \text{C} \quad \text{D} \quad \text{U} \\ 5 \quad 5 \quad 9 \\ + \quad 2 \quad 5 \quad 3 \\ \hline \end{array}$	$\begin{array}{r} \text{C} \quad \text{D} \quad \text{U} \\ 5 \quad 9 \quad 6 \\ + \quad 2 \quad 4 \quad 5 \\ \hline \end{array}$
$\begin{array}{r} \text{C} \quad \text{D} \quad \text{U} \\ 3 \quad 6 \quad 8 \\ - \quad 1 \quad 4 \quad 9 \\ \hline \end{array}$	$\begin{array}{r} \text{C} \quad \text{D} \quad \text{U} \\ 6 \quad 6 \quad 9 \\ + \quad 0 \quad 8 \quad 7 \\ \hline \end{array}$	$\begin{array}{r} \text{C} \quad \text{D} \quad \text{U} \\ 5 \quad 0 \quad 6 \\ - \quad 5 \quad 4 \quad 5 \\ \hline \end{array}$