

TAREAS 2ºA
PRIMARIA Sede Chapultepec

Titular: Yara Valenzuela Rios.

“No cedas fácilmente a los deseos de tu capricho.”

Lunes 26 de septiembre de 2016		
Materia	Descripción	Referencias
ESPAÑOL	-Estudiar para examen páginas.	LIBRO UNO
MATEMÁTICAS	-Contestar “tareas para la casa” pág. 79.	LIBRO UNO

Martes 27 de septiembre de 2016		
Materia	Descripción	Referencias
ESPAÑOL	-Contestar pág. 46.	LIBRO UNO
MATEMÁTICAS	Estudiar para examen de matemáticas	LIBRO UNO

Miércoles 28 de septiembre de 2016		
Materia	Descripción	Referencias
MATEMÁTICAS	-Resolver operaciones.	LIBRETA
EXPLORACIÓN	-Estudiar para examen.	LIBRO UNO
RELIGIÓN	-Actividad pág. 35.	LIBRO 5

Jueves 29 de septiembre de 2016		
Materia	Descripción	Referencias
ESPAÑOL	-Imprime y contesta anexo.	ANEXO 1
FORMACIÓN	--Estudiar para examen.	LIBRO UNO
INGLÉS	-Write three sentences using the vocabulary Word son page 36.	Book / Notebook
FRANCÉS	- T3: Cahier d'activités page 45: Regarde le labyrinthe et complète : Ils se sentent comment aujourd'hui ? et Choisis un chemin du labyrinthe et complète : Tu te sens comment aujourd'hui ? T3 : Libro de actividades página 45: Mirar y completar el laberinto: ¿cómo se sienten hoy? y elegir un camino del laberinto y completa: Cómo te sientes hoy?	Cahier d'activités La tarea se deberá entregar la próxima clase 05 de octubre



Viernes 30 de septiembre de 2016		
Materia	Descripción	Referencias
ESPAÑOL	-Imprime y contesta Módulo.	Módulo 1
MATEMÁTICAS	-Imprime y responde módulo.	Módulo 2
INGLÉS	- Answer the question in your notebook. What would you do if you got lost in a store?	Notebook

ANEXO 1
ESPAÑOL

Alumna: _____ Grado: _____

Maestra: _____ Fecha: _____

Frase: _____

1. Rodea las comas. Después, copia la oración.
La tarta es de fresa, crema y nata.

Allí están Ana, Iván, Eva y Teo

2. ¿Cómo se llaman los dedos de la mano? Escribe. Recuerda escribir coma donde sea necesario.

Los dedos de la mano se llaman:



3. Completa las siguientes frases.

Mis deportes favoritos son: _____

Mis comidas preferidas son: _____

MÓDULO 1
ESPAÑOL

Alumna: _____ Grado: _____

Maestra: _____ Fecha: _____

Frase: _____

1. Escribe los puntos que hagan falta, pueden ser punto y seguido y punto y aparte.

Había una vez una niña llamada Caperucita Roja, ya que su abuelita le regaló una caperuza roja. Un día, la mamá de Caperucita la mandó a casa de su abuelita, estaba enferma, para que le llevara en una cesta pan, chocolate, azúcar y dulces. Su mamá le dijo: "no te apartes del camino de siempre, ya que en el bosque hay lobos". Caperucita iba cantando por el camino que su mamá le había dicho y, de repente, se encontró con el lobo y le dijo: "Caperucita, Caperucita, ¿dónde vas?" "A casa de mi abuelita a llevarle pan, chocolate, azúcar y dulces". "¡Vamos a hacer una carrera! Te dejaré a ti el camino más corto y yo el más largo para darte ventaja". Caperucita aceptó pero ella no sabía que el lobo la había engañado. El lobo llegó antes y se comió a la abuelita.



MÓDULO 2
MATEMÁTICAS

Alumna: _____ Grado: _____


Maestra: _____ Fecha: _____

Frase: _____

- Lee el siguiente texto y observa la imagen para realizar los ejercicios.

Los números de **dos cifras** se componen de **unidades** y **decenas**.
Los de **tres cifras** se componen, además, de **centenas**.

Cada **unidad** es un elemento. Diez unidades forman una **decena**. Diez decenas forman una **centena**.



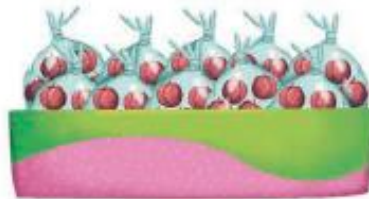
La posición de las cifras en una cantidad expresa las unidades, decenas y centenas que la forman. Por ejemplo, en el número:

2 3 6

Hay: dos **centenas** + tres **decenas** + seis **unidades**

1. Escribe **Unidad**, **Decena** o **Centena** donde corresponde.







2. Rodea las respuestas correctas.

Una decena es igual que:

diez unidades

diez centenas

Una centena es igual que:

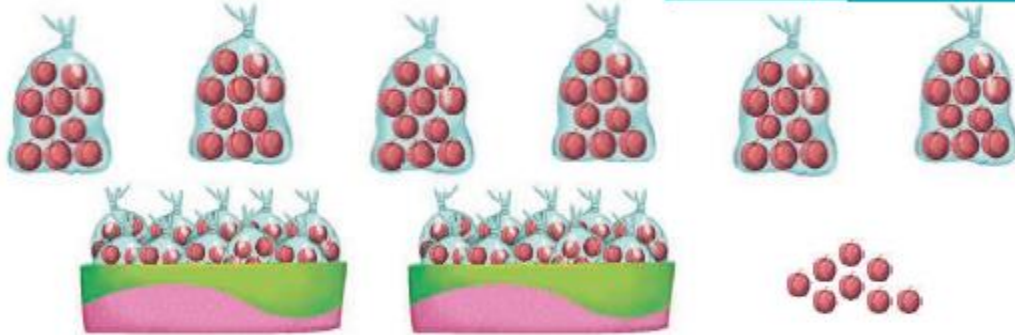
cien decenas

cien unidades



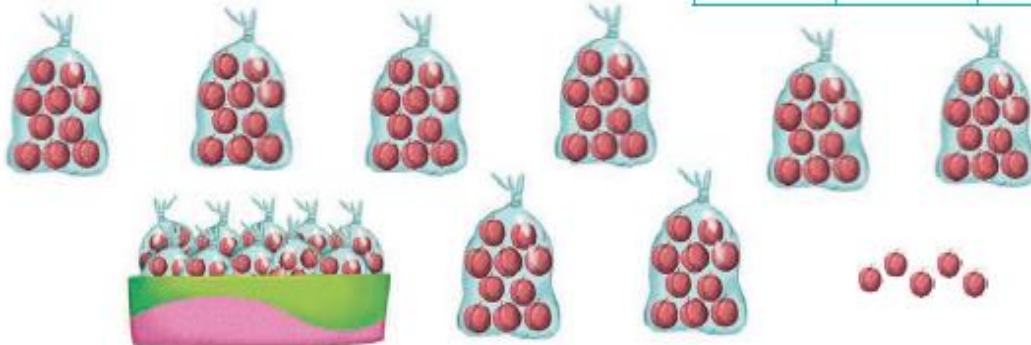
3. Anota en la tabla las cantidades que hay de cajas, bolsas y ciruelas.

Cajas	Bolsas	Ciruelas



4. Completa la tabla con el número de centenas, decenas y unidades.

Centenas	Decenas	Unidades



5. Escribe la cantidad total de ciruelas.

